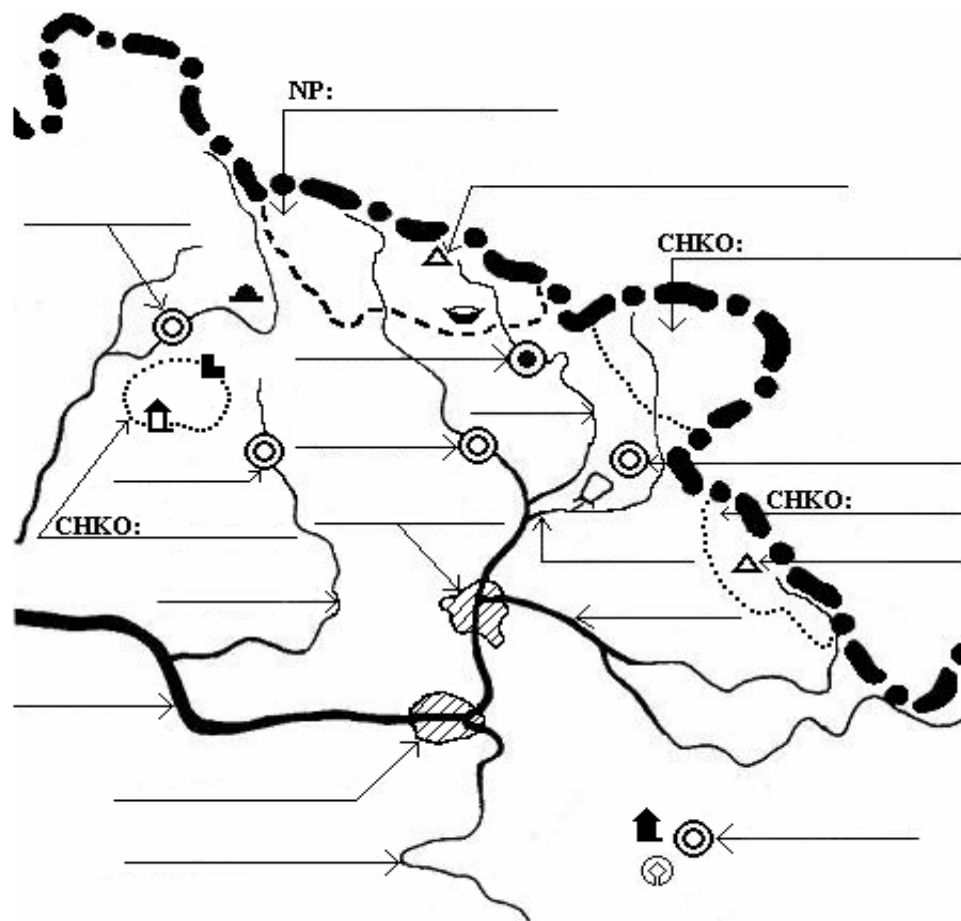
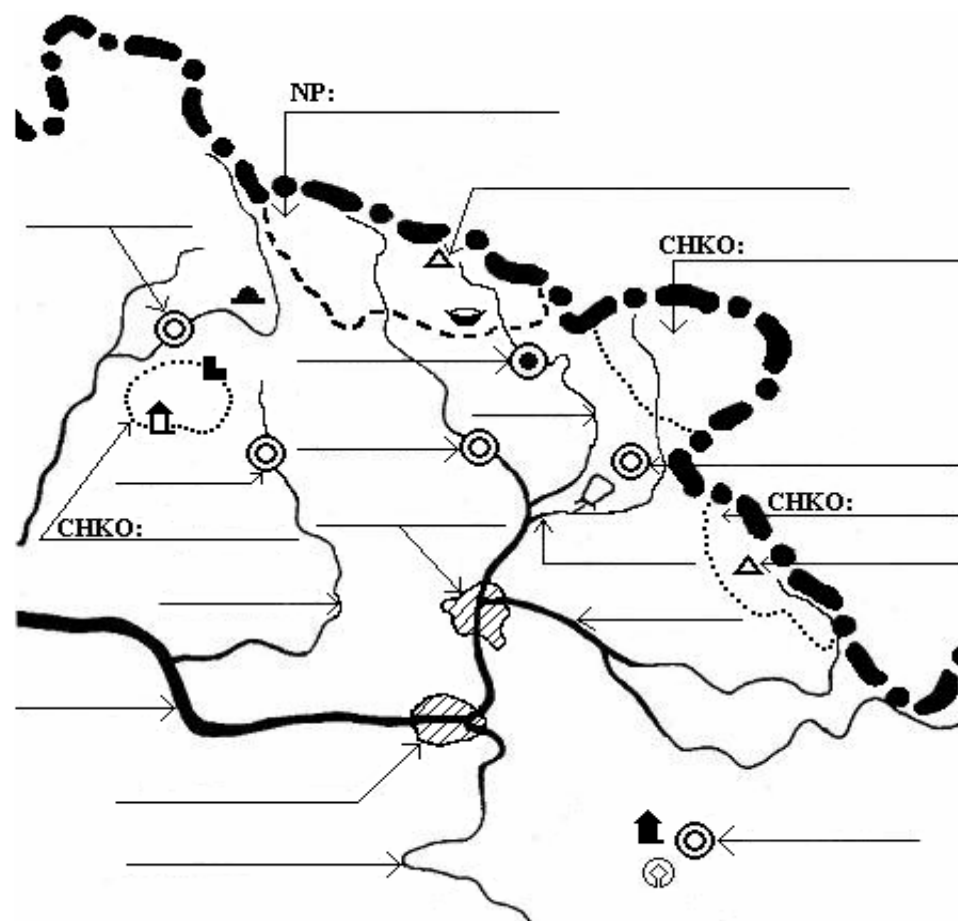


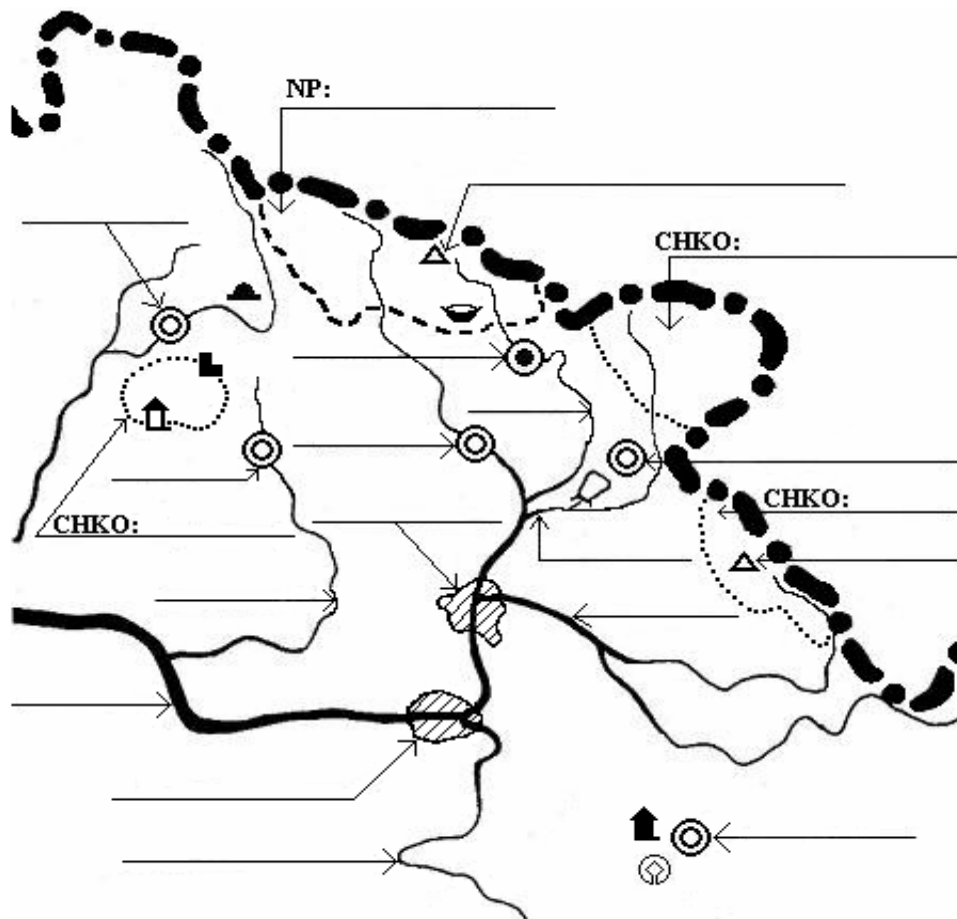
## 2. VÝCHODNÍ ČECHY



## 2. VÝCHODNÍ ČECHY



## 2. VÝCHODNÍ ČECHY



- Východní Čechy hraničí se státem \_\_\_\_\_ . 1
- Doplň do mapky: Broumovsko, Krkonoše, Český ráj, Orlické hory. Ke značkám připiš horu + m. 8
- Dopiš názvy řek: Cidlina, Chrudimka, Metuje, Labe, Orlice, Úpa. Vodní nádrž vyznačená na mapce se jmenuje \_\_\_\_\_ . 7

Jméno: \_\_\_\_\_ známka: \_\_\_\_\_

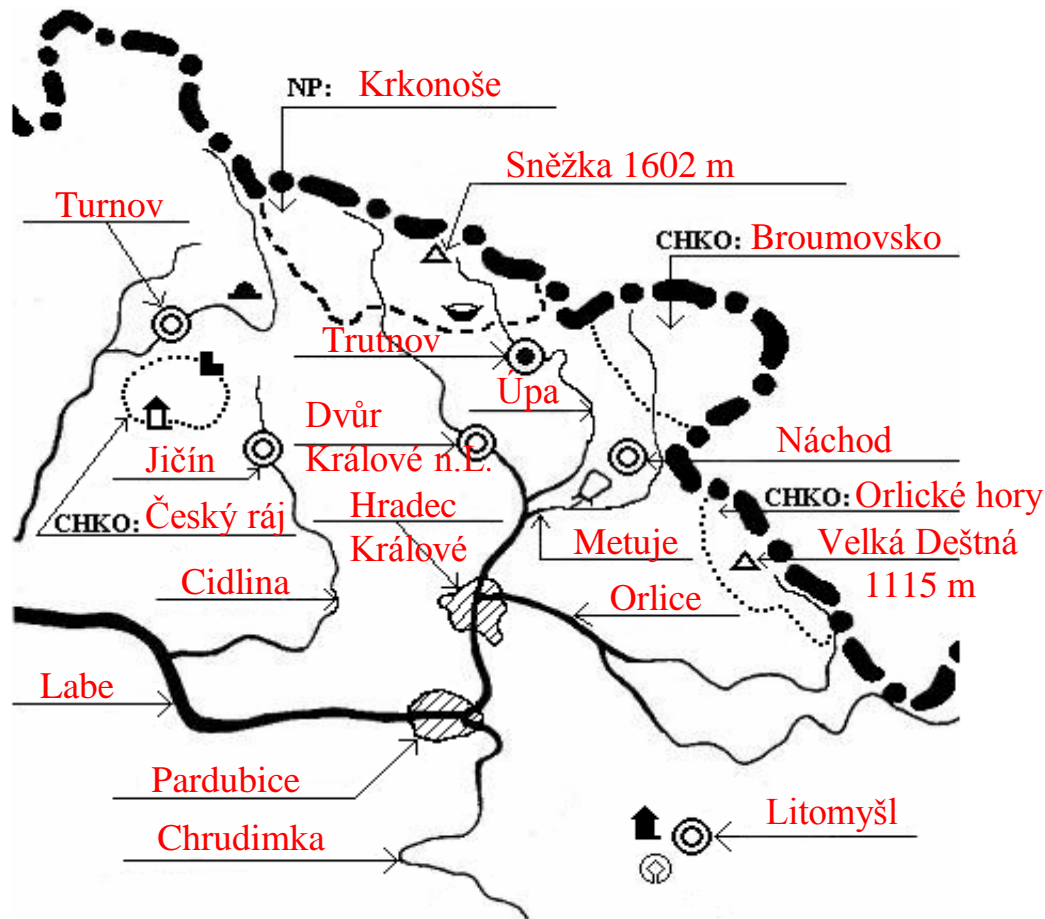
- Doplň názvy měst: Dvůr Králové n.Labem, Jičín, Hradec Králové, Litomyšl, Náchod, Pardubice, Trutnov, Turnov. 8
- Východní Čechy odvodňuje řeka \_\_\_\_\_. Řeka Orlice je \_\_\_\_\_ přítokem Labe. Cidlina je \_\_\_\_\_ přítokem Labe. Náchodem protéká řeka \_\_\_\_\_. V Pardubicích se vlévá řeka \_\_\_\_\_ do řeky \_\_\_\_\_. 6
- Vysvětli značku a urči název místa značky z mapy:
 

		-	
		-	
		-	
		-	
		-	

10
- Vysvětli zkratku KRNAP \_\_\_\_\_. Městem perníku je město \_\_\_\_\_. Rumcajs ševcoval ve městě \_\_\_\_\_. Děj knihy Babička se odehrává v CHÚ (chráněném území) \_\_\_\_\_. CHÚ Prachovské skály jsou tvořeny horninou \_\_\_\_\_. V Krkonoších leží na Labi turistické středisko \_\_\_\_\_. Pardubice mají \_\_\_\_\_ obyvatel. Od Hradce Králové leží Trutnov \_\_ km směrem na \_\_\_\_\_. ZOO se safari je ve městě \_\_\_\_\_ . 10

celkem bodů: 50

## 2. VÝCHODNÍ ČECHY



- Východní Čechy hraničí se státem **Polskem** .
- Doplň do mapky: Broumovsko, Krkonoše, Český ráj, Orlické hory. Ke značkám připiš horu + m.
- Dopiš názvy řek: Cidlina, Chrudimka, Metuje, Labe, Orlice, Úpa. Vodní nádrž vyznačená na mapce se jmenuje **Rozkoš** .

Jméno: \_\_\_\_\_ známka: \_\_\_\_\_

- Doplň názvy měst: Dvůr Králové n.Labem, Jičín, Hradec Králové, Litomyšl, Náchod, Pardubice, Trutnov, Turnov.
- Východní Čechy odvodňuje řeka **Labe** . Řeka Orlice je **levým** přítokem Labe. Cidlina je **pravým** přítokem Labe. Náchodem protéká řeka **Metuje** . V Pardubicích se vlévá řeka **Chrudimka** do řeky **Labe** .
- Vysvětli značku a urči název místa značky z mapy:
 

	jeskyně	- Bozkovská
	lázně	- Jánské Lázně
	hrad	- Kost
	zřícenina	- Trosky
	zámek	- Litomyšl
- Vysvětli zkratku KRNAP **Krkonošský národní park** . Městem perníku je město **Pardubice** . Rumcajs ševcoval ve městě **Jičín** . Děj knihy Babička se odehrává v CHÚ (chráněném území) **Babiččino údolí** . CHÚ Prachovské skály jsou tvořeny horninou **pískovec** . V Krkonoších leží na Labi turistické středisko **Špindlerův Mlýn** . Pardubice mají **50 000 - 100 000** obyvatel. Od Hradce Králové leží Trutnov **40 km** směrem na **sever** . ZOO se safari je ve městě **Dvůr Králové nad Labem** .

celkem bodů: