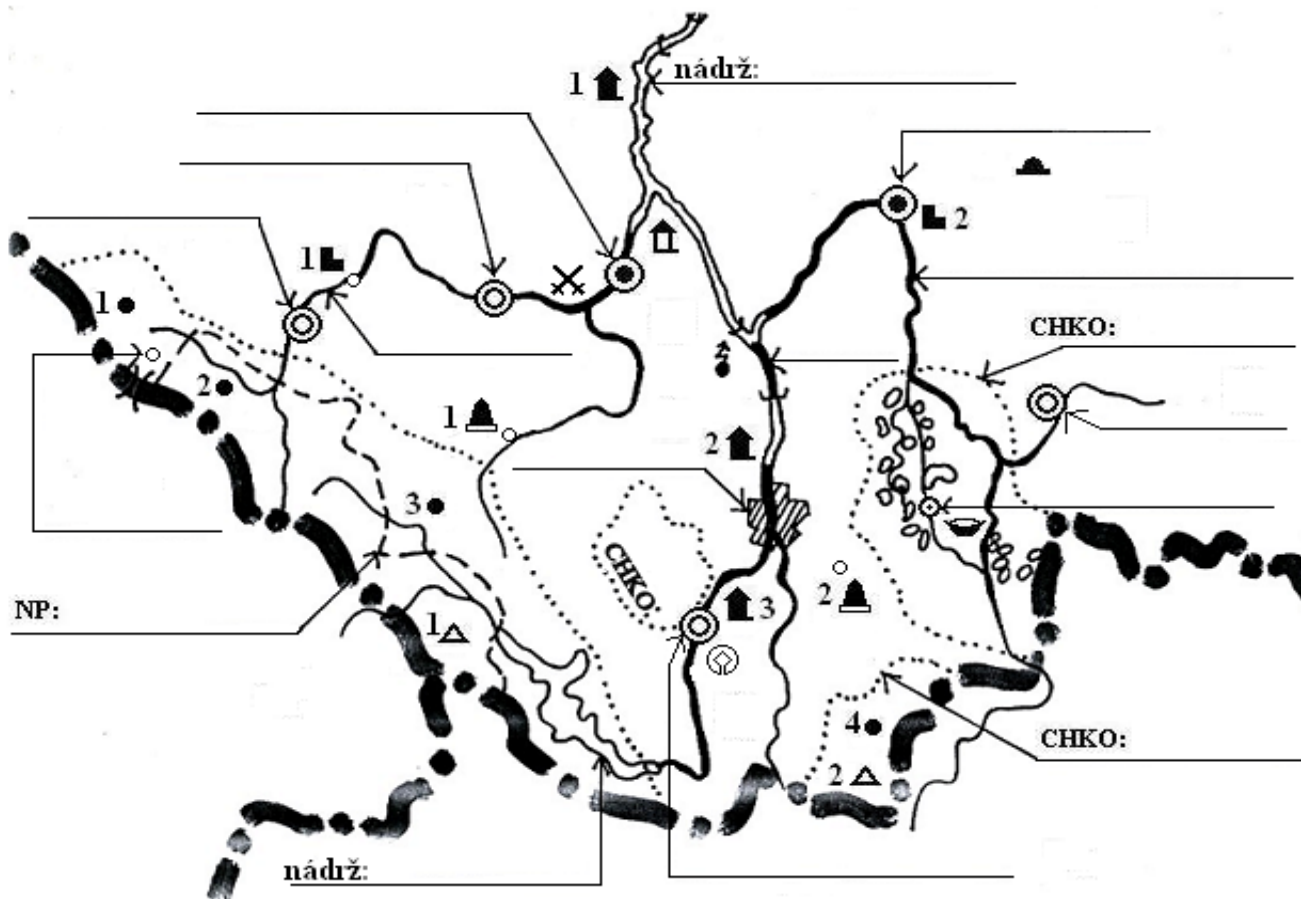
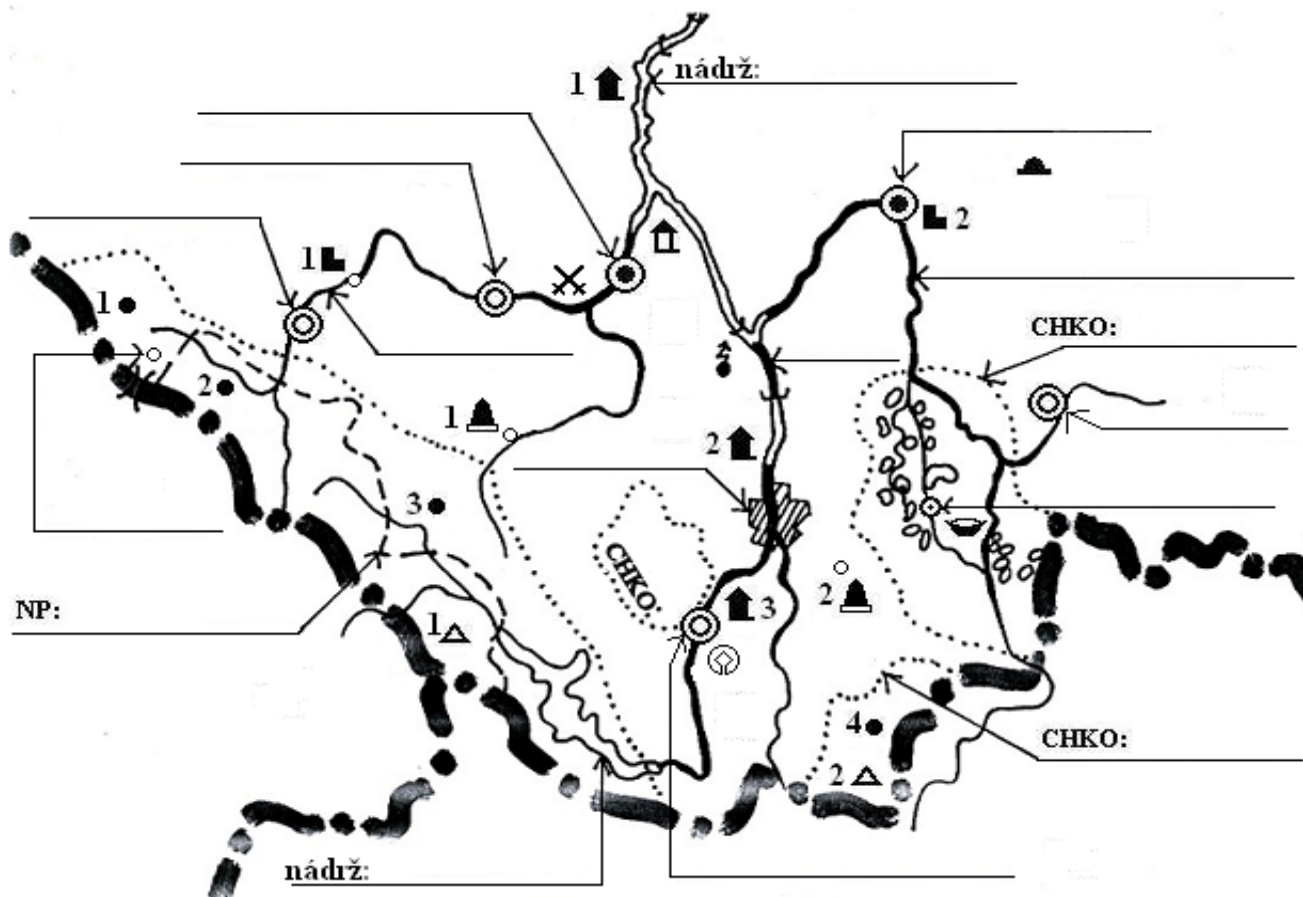


5. JIŽNÍ ČECHY



5. JIŽNÍ ČECHY



5. JIŽNÍ ČECHY

jméno: _____

známka: _____

1. Dopiš do mapky hraniční státy s jižními Čechami, názvy NP, CHKO, vodní nádrže.

8

2. Pojmenuj názvy vrcholů: 1 ▲ _____, 2 ▲ _____, přiřiš názvy maloplošných CHÚ: 1 ● _____, 2 ● _____, 3 ● _____, 4 ● _____.

6

3. Doplṅ do mapy řeky: Lužnice, Otava, Vltava. Jižní Čechy odvodňuje řeka _____. Lužnice je _____ přítokem řeky _____. Největší rybník na Třeboňsku se nazývá _____.












7

4. Dopiš města: České Budějovice, Český Krumlov, Jindřichův Hradec, Písek, Strakonice, Sušice, Tábor, Třeboň, Źelezná Ruda.

9

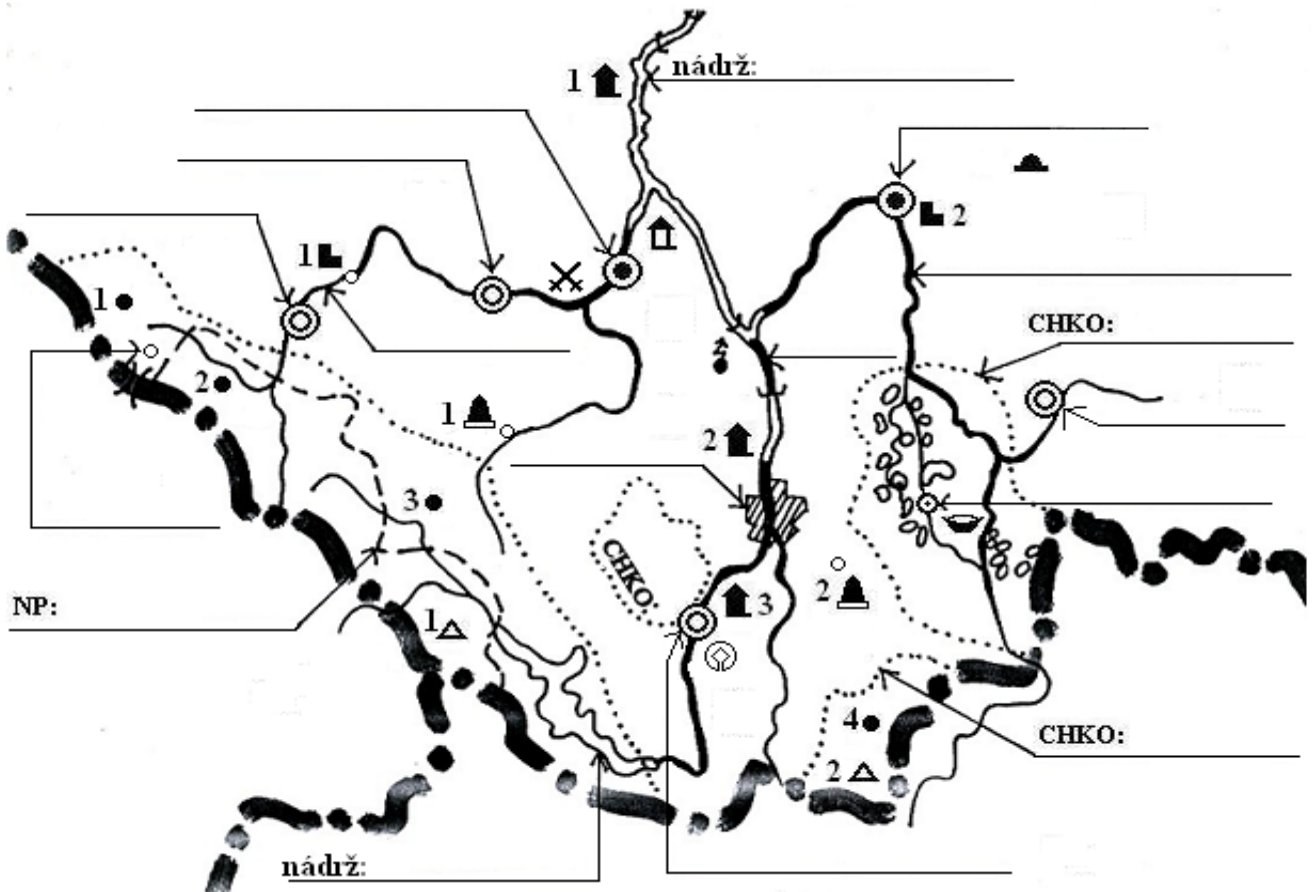
5. Nejlidnatějším městem jižních Čech je město _____. Husité vybudovali město _____. Nejstarší kamenný most v ČR je ve městě _____. J.K.Tyl pojmenoval divadelní hru Strakonický dudák podle města _____. Sušice mají _____ obyvatel, leží od Písku ____ km, směrem _____. Památka evropského významu je ve městě _____.

8

6. Přiřiš vlastní jména těchto míst: 1  _____, 1  _____, 2  _____, 3  _____, 1  _____, 2  _____, ✕ _____, 1  _____, 2  _____,  _____,  _____,  _____.

12

celkem bodů: 50



5. JIŽNÍ ČECHY

jméno: _____

známka: _____

- Dopiš do mapky hraniční státy s jižními Čechami, názvy NP, CHKO, vodní nádrže.

8	
---	--
- Pojmenuj názvy vrcholů: 1 ▲ **Plechý** , 2 ▲ **Kamenec** , připiš názvy maloplošných CHÚ: 1 ● **Černé jezero** , 2 ● **Povydrí** , 3 ● **Boubínský prales** , 4 ● **Žofínský prales** .

6	
---	--
- Doplň do mapy řeky: Lužnice, Otava, Vltava. Jižní Čechy odvodňuje řeka **Vltava** . Lužnice je **pravým** přítokem řeky **Vltavy** . Největší rybník na Třeboňsku se nazývá **Rožmberk** .

7	
---	--
- Dopiš města: České Budějovice, Český Krumlov, Jindřichův Hradec, Písek, Strakonice, Sušice, Tábor, Třeboň, Železná Ruda.

9	
---	--
- Nejlidnatějším městem jižních Čech je město **České Budějovice** . Husité vybudovali město **Tábor** . Nejstarší kamenný most v ČR je ve městě **Písek** . J.K.Tyl pojmenoval divadelní hru Strakonický dudák podle města **Strakonice** . Sušice mají **10 000 - 25 000** obyvatel, leží od Písku **45** km, směrem **západ JZ** . Památka evropského významu je ve městě **Český Krumlov** .

8	
---	--
- Připiš vlastní jména těchto míst: 1 🏠 **Zvíkov** , 1 🏠 **Orlík** , 2 🏠 **Hluboká nad Vltavou** , 3 🏠 **Český Krumlov** , 1 🏠 **Husinec** , 2 🏠 **Trocnov** , ✂ **Sudoměř** , 1 🏠 **Rábí** , 2 🏠 **Kozí Hrádek** , 🏠 **Chýnovské jeskyně** , 🏊 **Třeboň** , ⚡ **Temelín** .

12	
----	--

celkem bodů:

50	
----	--

