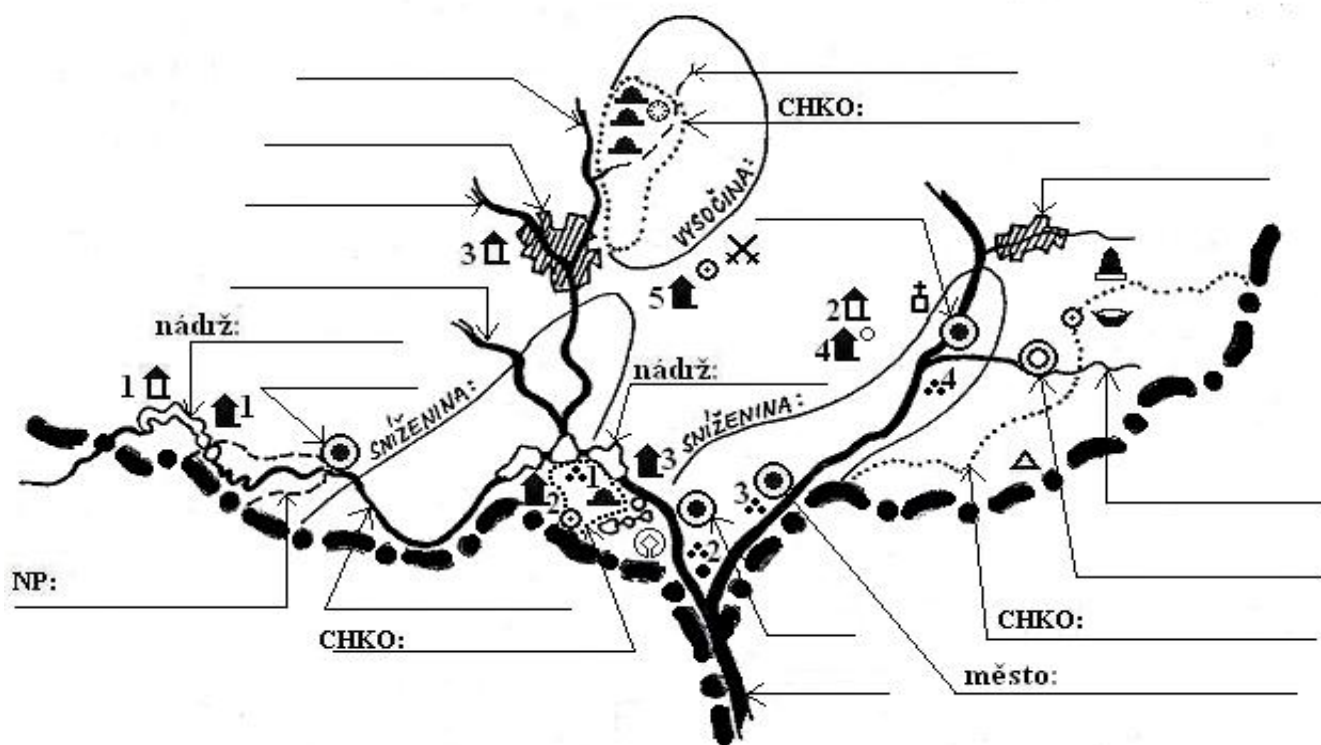
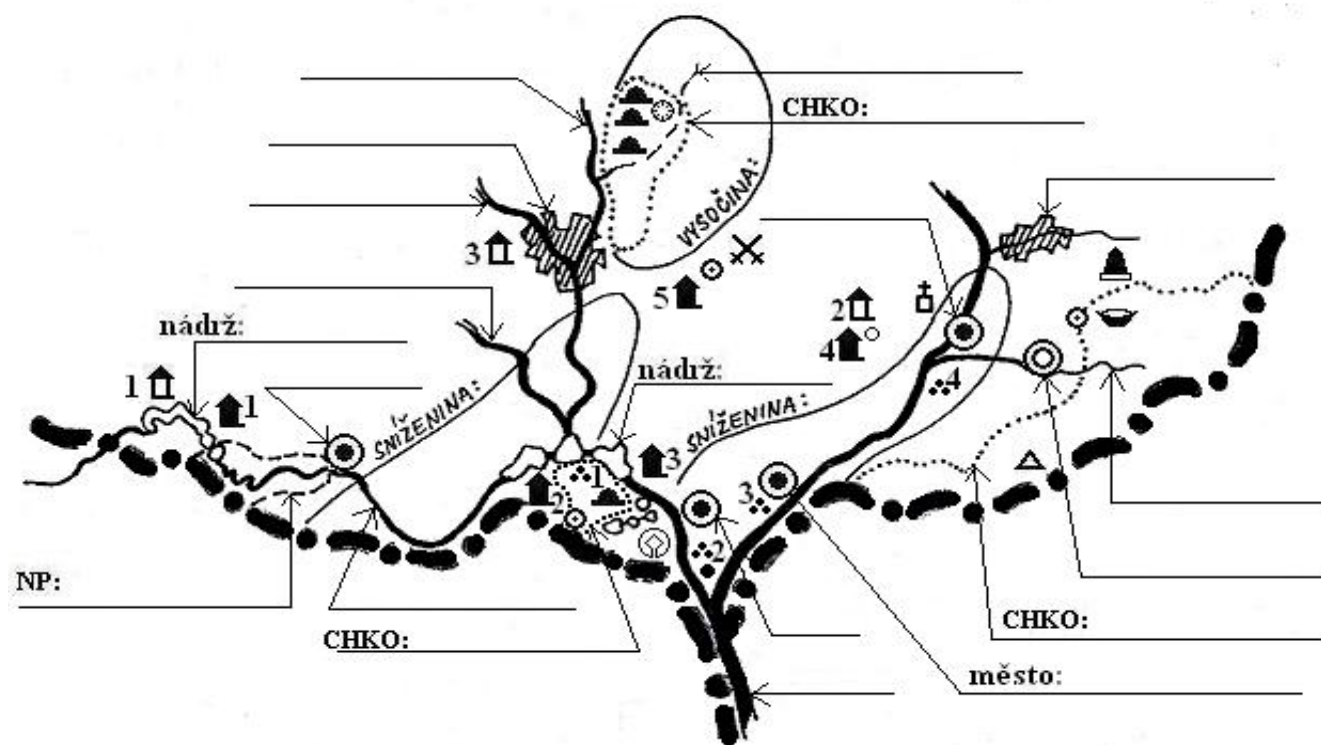


8. Střední a jižní Morava



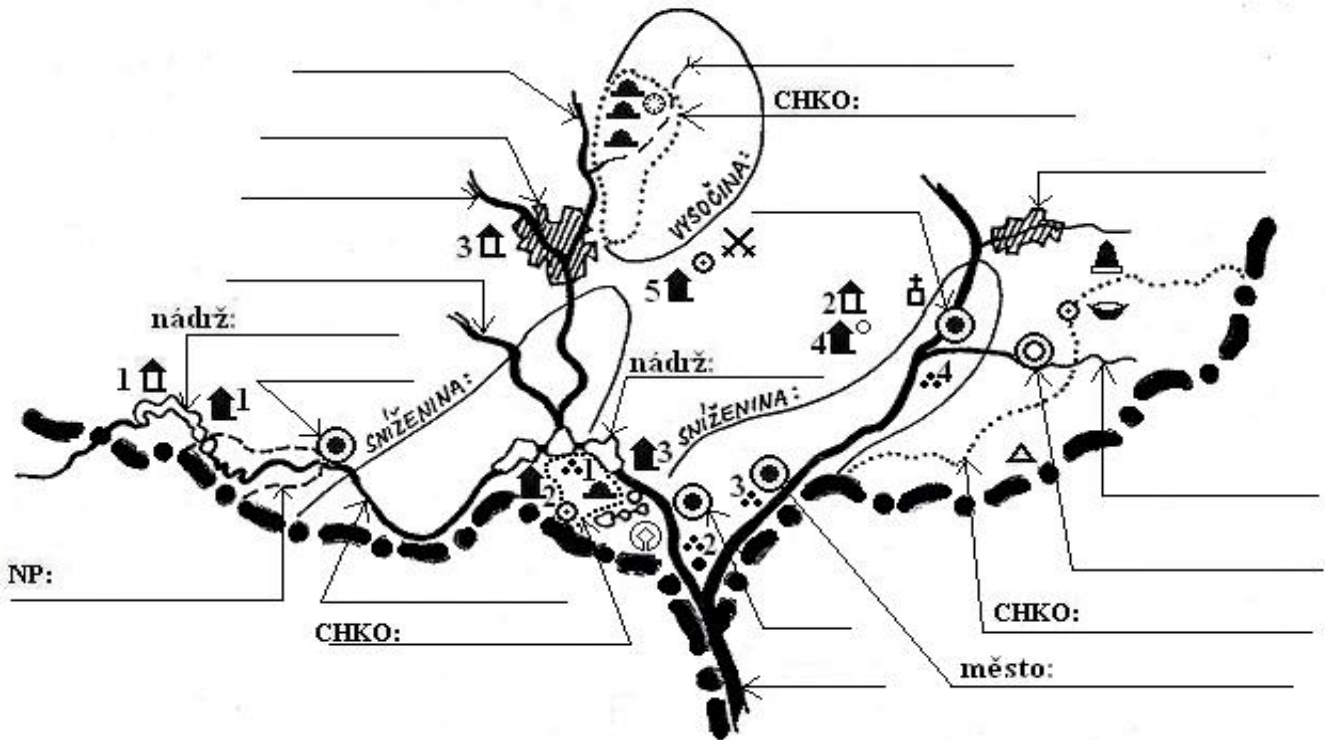
8. Střední a jižní Morava



jméno: _____

známka: _____

8. Střední a jižní Morava



1. Tato oblast ČR hraničí se státy: _____

2	
---	--
2. Doplň do mapky: sníženiny, vysočiny, CHKO, NP a nádrže.

9	
---	--
3. Dopiš: Brno, Břeclav, Hodonín, Uherský Brod, Uherské Hradiště, Zlín, Znojmo.

7	
---	--
4. Pojmenuj: Dyje, Jihlava, Morava, Olšava, Punkva, Svitava, Svratka

7	
---	--
5. Celé území odvodňuje řeka _____. Jejím pravým přítokem je řeka _____ a levým řeka _____. V Brně se vlévá řeka _____ do řeky _____. Blízko Pálavy leží chráněné rybníky _____.

6	
---	--
6. Hrady: 1 _____, 2 _____, 3 _____, zámky: 1 _____, 2 _____, 3 _____, 4 _____, 5 _____, archeologická naleziště: 1 _____, 2 _____, 3 _____, 4 _____.

12	
----	--
7. Pojmenuj značku + vlastní jméno místa:

☉	_____ - _____		
☪	_____ - _____,	✕	_____ - _____,
☪	_____ - _____,	▲	_____ - _____
●	_____ - _____,	⊗	_____ - _____.

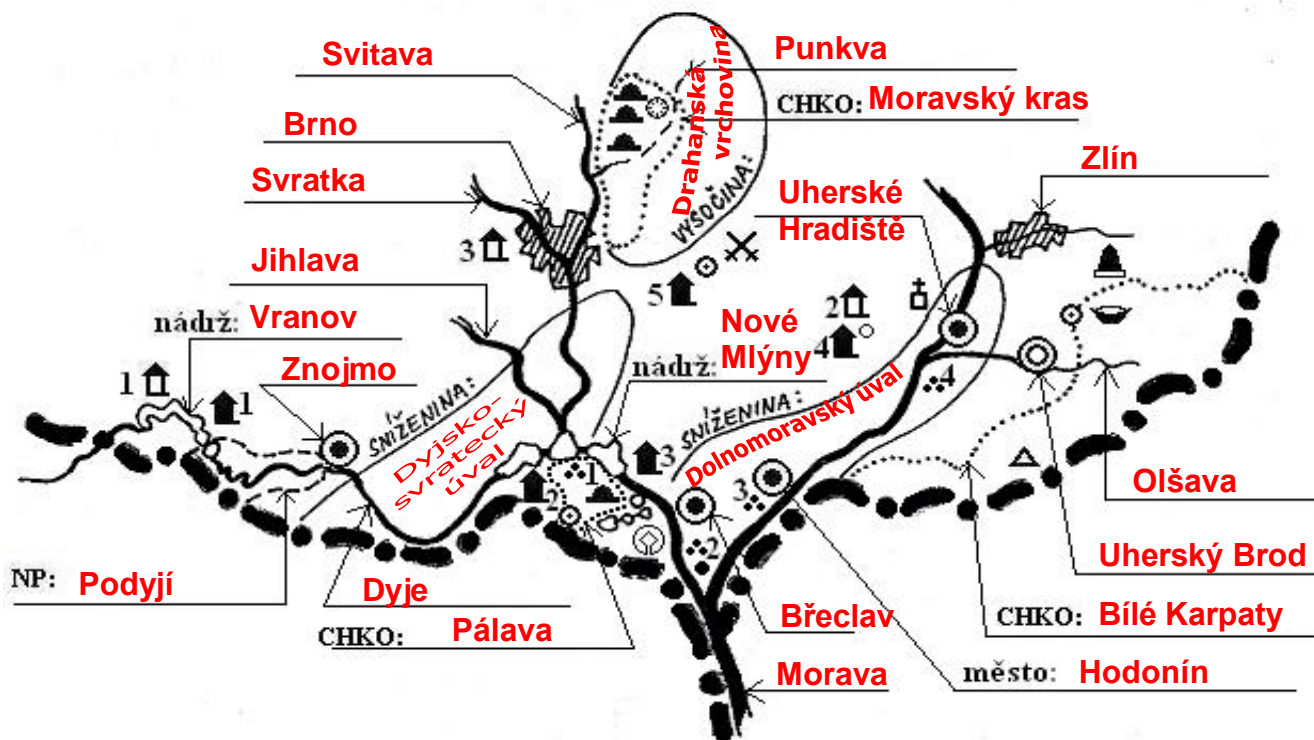
16	
----	--
8. Moravský kras je tvořen z horniny _____. Teče zde v jeskyni _____ ponorná řeka _____. Znojmo je známé zpracováním zeleniny _____ a románskou stavbou _____. Na jižní Moravě se pěstuje ovoce _____. Kraj na pomezí Moravy a Slovenska se nazývá _____.

7	
---	--

celkem bodů:

66	
----	--

8. Střední a jižní Morava



1. Tato oblast ČR hraničí se státy: **Slovensko, Rakousko**

2	
---	--
 2. Doplň do mapky: sníženiny, vysočiny, CHKO, NP a nádrže.

9	
---	--
 3. Dopiš: Brno, Břeclav, Hodonín, Uherský Brod, Uherské Hradiště, Zlín, Znojmo.

7	
---	--
 4. Pojmenuj: Dyje, Jihlava, Morava, Olšava, Punkva, Svitava, Svatka

7	
---	--
 5. Celé území odvodňuje řeka **Morava**. Jejím pravým přítokem je řeka **Dyje** a levým řeka **Olšava**. V Brně se vlévá řeka **Svitava** do řeky **Svatky**. Blízko Pálavy leží chráněné rybníky **Lednické**.

6	
---	--
 6. Hrady: 1 **Bítov**, 2 **Buchlov**, 3 **Špilberk**, zámky: 1 **Vranov nad Dyjí**, 2 **Mikulov**, 3 **Lednice**, 4 **Buchlovice**, 5 **Slavkov u Brna**, archeologická naleziště: 1 **Dolní Věstonice**, 2 **Pohansko**, 3 **Mikulčice**, 4 **Staré Město u Uherského Hradiště**.

12	
----	--
 7. Pojmenuj značku + vlastní jméno místa:

16	
----	--

 - ☉ propast - **Macocha**
 - ☞ lázně - **Luhačovice**, ✕ výz.bojiště - **Slavkov u Brna**, ☙ význ.klášter - **Velehrad**, 🏰 pam.místo - **Ploština**, ▲ výšk.bod - **Javořina**, ● CHÚ - **soutok M+D**, 🌐 UNESCO - **Lednice**.
 8. Moravský kras je tvořen z horniny **vápenec**. Teče zde v jeskyni **Punkevní** ponorná řeka **Punkva**. Znojmo je známé zpracováním zeleniny **okurky** a románskou stavbou **rotundou**. Na jižní Moravě se pěstuje ovoce **vinná réva**. Kraj na pomezí Moravy a Slovenska se nazývá **Slovácko**.

7	
---	--
- celkem bodů:

66	
----	--