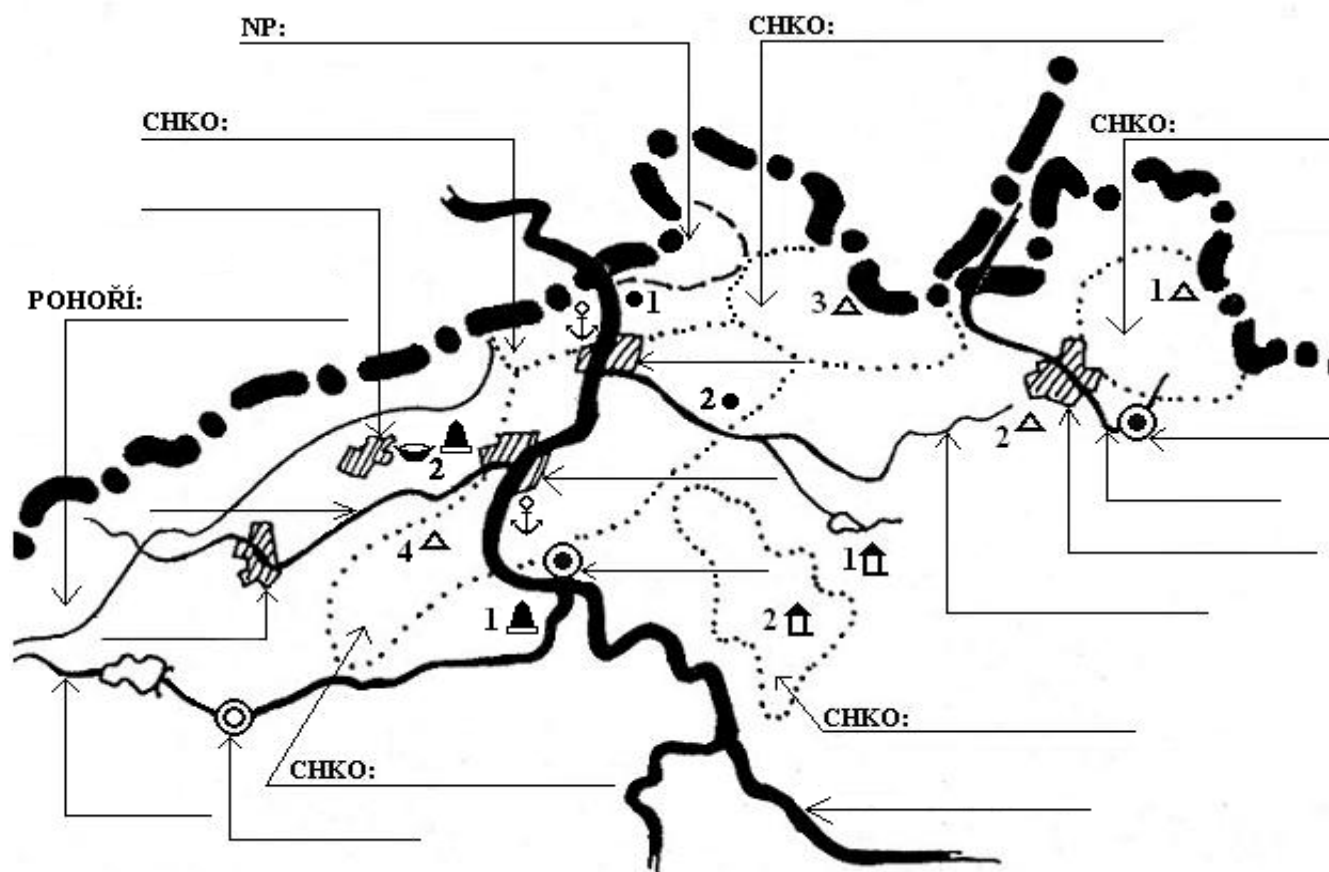
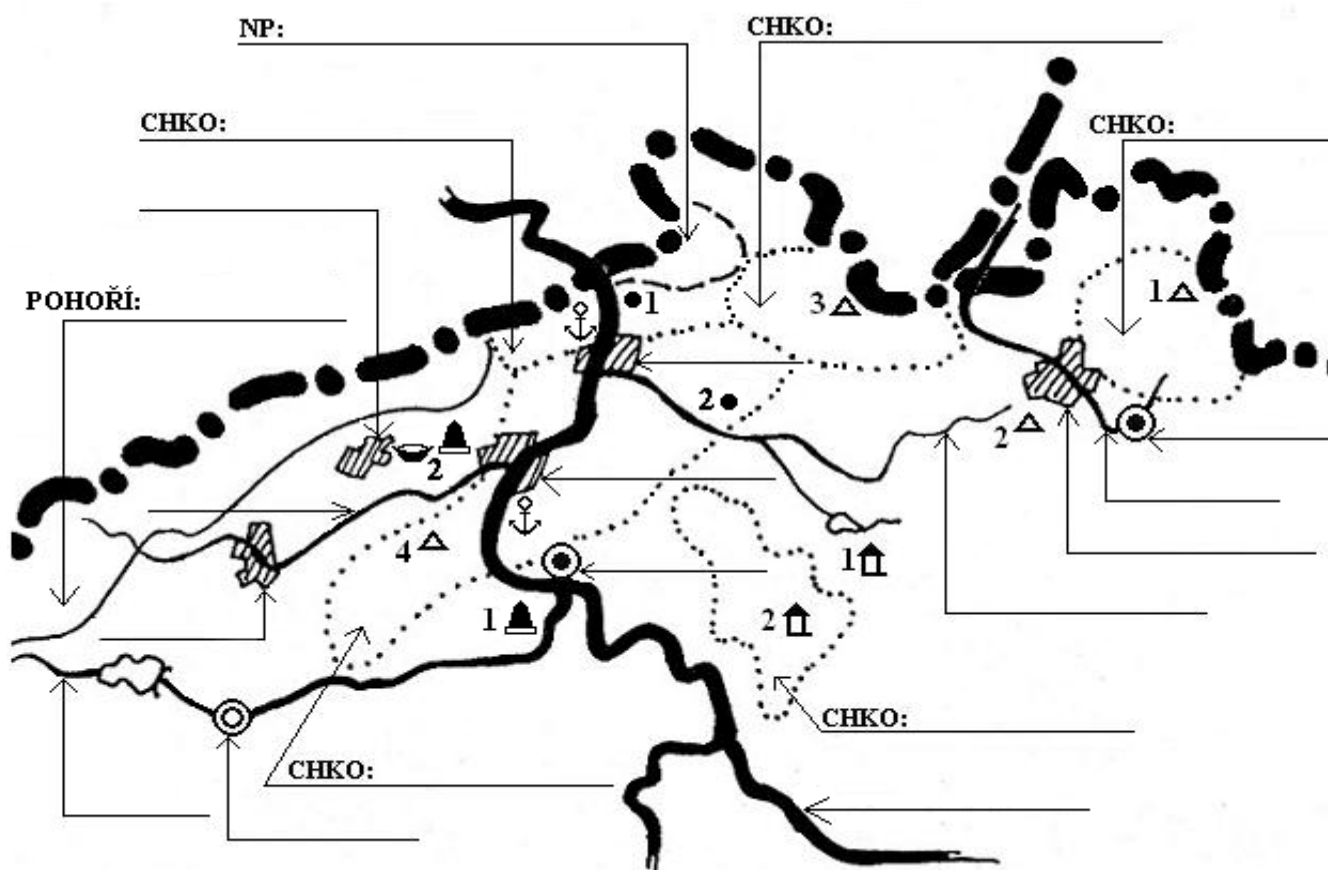
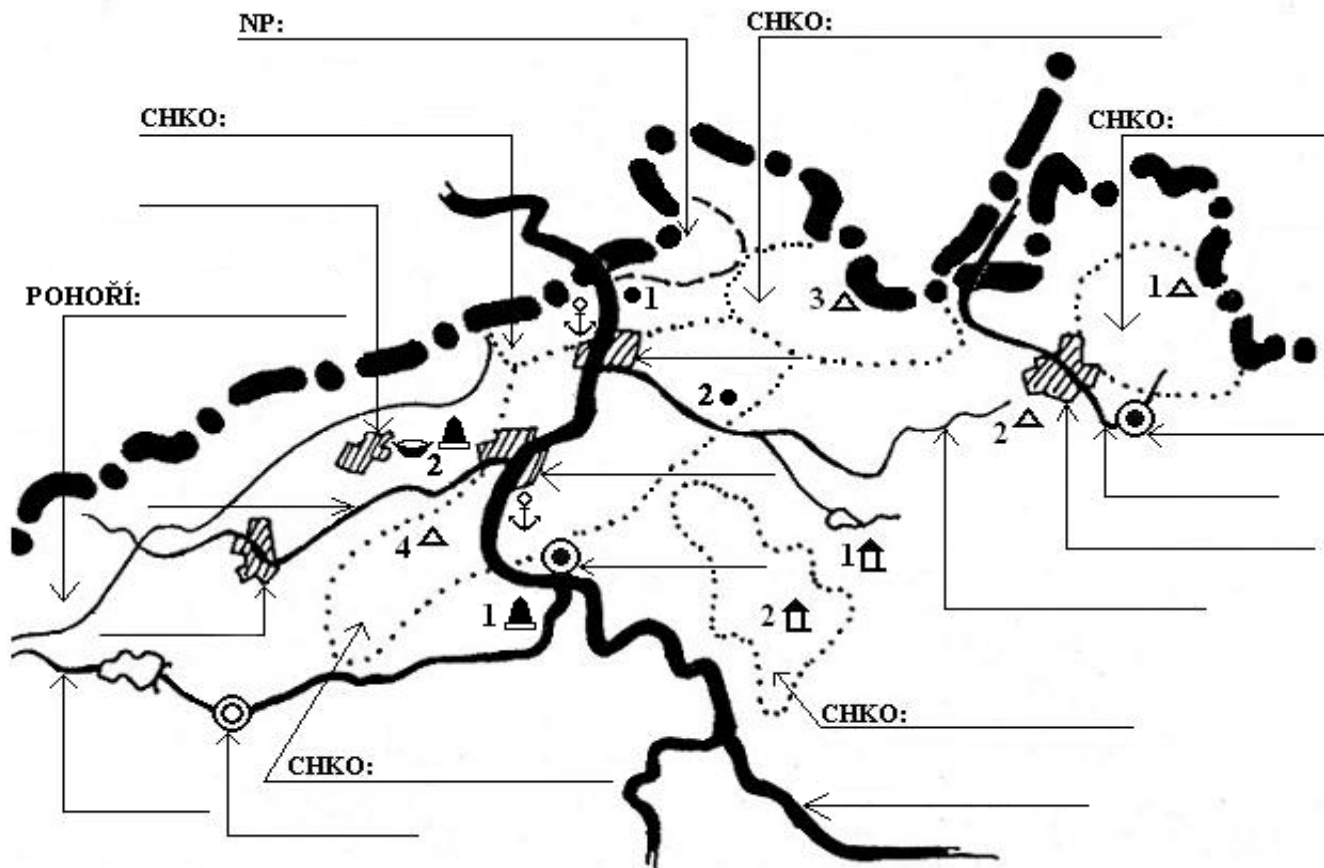


### 3. SEVERNÍ ČECHY



### 3. SEVERNÍ ČECHY





1. Dopiš do mapky: Děčín, Jablonec nad Nisou, Litoměřice, Most, Teplice, Ústí nad Labem, Žatec.

8	
---	--

2. Vepiš názvy řek: Bílina, Labe, Nisa, Ohře, Ploučnice.

5	
---	--

3. Řeka Nisa teče za hranicemi ČR do \_\_\_\_\_, řeka Labe do \_\_\_\_\_. Bílina je \_\_\_\_\_ přítokem Labe. Ohře je \_\_\_\_\_ přítokem Labe. Na přítoku Ploučnice leží jezero \_\_\_\_\_. U Litoměřic se vlévá řeka \_\_\_\_\_ do řeky \_\_\_\_\_.

7	
---	--

4. Dopiš do mapky názvy pohoří, NP a CHKO.

7	
---	--

5. Pojmenuj vlastními jmény: 1△ \_\_\_\_\_, 2△ \_\_\_\_\_, 3△ \_\_\_\_\_, 4△ \_\_\_\_\_, 1⬆ \_\_\_\_\_, 2⬆ \_\_\_\_\_, 1⬇ \_\_\_\_\_, 2⬇ \_\_\_\_\_, 1⬆ \_\_\_\_\_, 2● \_\_\_\_\_.

10	
----	--

6. V okolí Žatce se pěstuje \_\_\_\_\_. V okolí Mostu se těží \_\_\_\_\_. Světoznámé lázně jsou ve městě \_\_\_\_\_. Říční přístav je ve městě \_\_\_\_\_ a \_\_\_\_\_. Televizní vysílač stojí na hoře \_\_\_\_\_, která je vysoká \_\_\_\_\_ metrů. Liberec má obyvatel \_\_\_\_\_ a Žatec \_\_\_\_\_. Žatec leží směrem od Děčína na \_\_\_\_\_ km \_\_\_\_\_. Kdy a co se stalo v Terezíně?

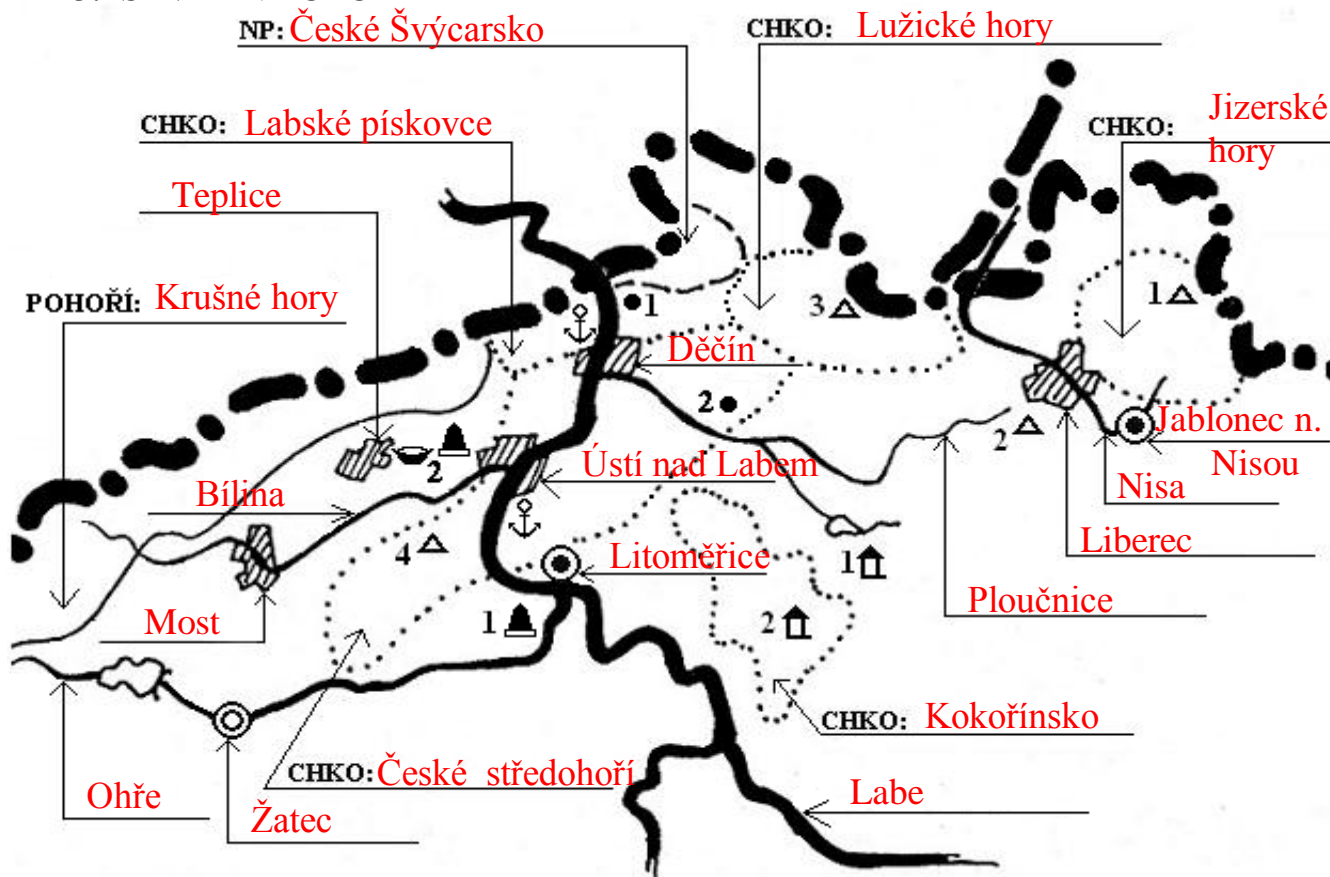
13	
----	--

celkem bodů:

50	
----	--

### 3. SEVERNÍ ČECHY

Jméno: \_\_\_\_\_ známka: \_\_\_\_\_



1. Dopiš do mapky: Děčín, Jablonec nad Nisou, Litoměřice, Most, Teplice, Ústí nad Labem, Žatec.

8
---

2. Vepiš názvy řek: Bílina, Labe, Nisa, Ohře, Ploučnice.

5
---

3. Řeka Nisa teče za hranicemi ČR do **Polska**, řeka Labe do **Německa**. Bílina je **levým** přítokem Labe. Ohře je **levým** přítokem Labe. Na přítoku Ploučnice leží jezero **Máchovo**. U Litoměřic se vlévá řeka **Ohře** do řeky **Labe**.

7
---

4. Dopiš do mapky názvy pohoří, NP a CHKO.

7
---

5. Pojmenuj vlastními jmény: 1 ▲ **Šmrk**, 2 ▲ **Ještěd**, 3 ▲ **Luž**, 4 ▲ **Milešovka**, 1 🏠 **Bezděz**, 2 🏠 **Kokořín**, 1 🏰 **Terezín**, 2 🏰 **Stadice**. Pojmenuj maloplošné CHÚ: 1 ● **Pravčická brána**, 2 ● **Panská skála**.

10
----

6. V okolí Žatce se pěstuje **chmel**. V okolí Mostu se těží **hnědé uhlí**. Světoznámé lázně jsou ve městě **Teplice**. Říční přístav je ve městě **Děčín** a **Ústí nad Labem**. Televizní vysílač stojí na hoře **Ještěd**, která je vysoká **1012** metrů. Liberec má obyvatel **100 000 - 1 000 000** a Žatec **10 000 - 25 000**. Žatec leží směrem od Děčína na **jihozápad** km **70**. Kdy a co se stalo v Terezíně? **1940 - 1945 koncentrační tábor - zavraždění Židé**

13
----

celkem bodů:

50
----